

## La géométrie de la grenouille

Par ASTIER Eloi, CHAIX Mélanie et ARHIE Adrien, élèves de T°S1 au lycée d'Altitude de Briançon.

Enseignant : Hubert PROAL

Chercheur : Camille PETIT (Institut Fourier de Grenoble)

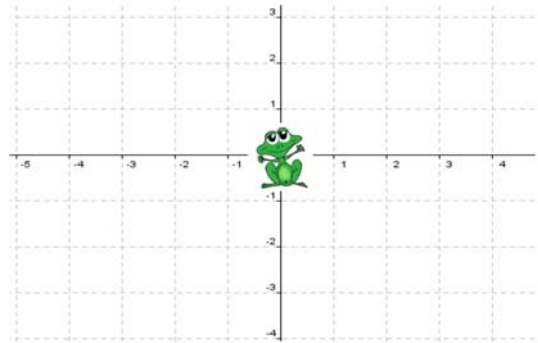
### Sujet :

Soit une grenouille dont l'espace de vie est l'ensemble des points du plan de coordonnées entières.

Elle effectue des sauts uniquement de longueur  $\sqrt{5}$ . (1)

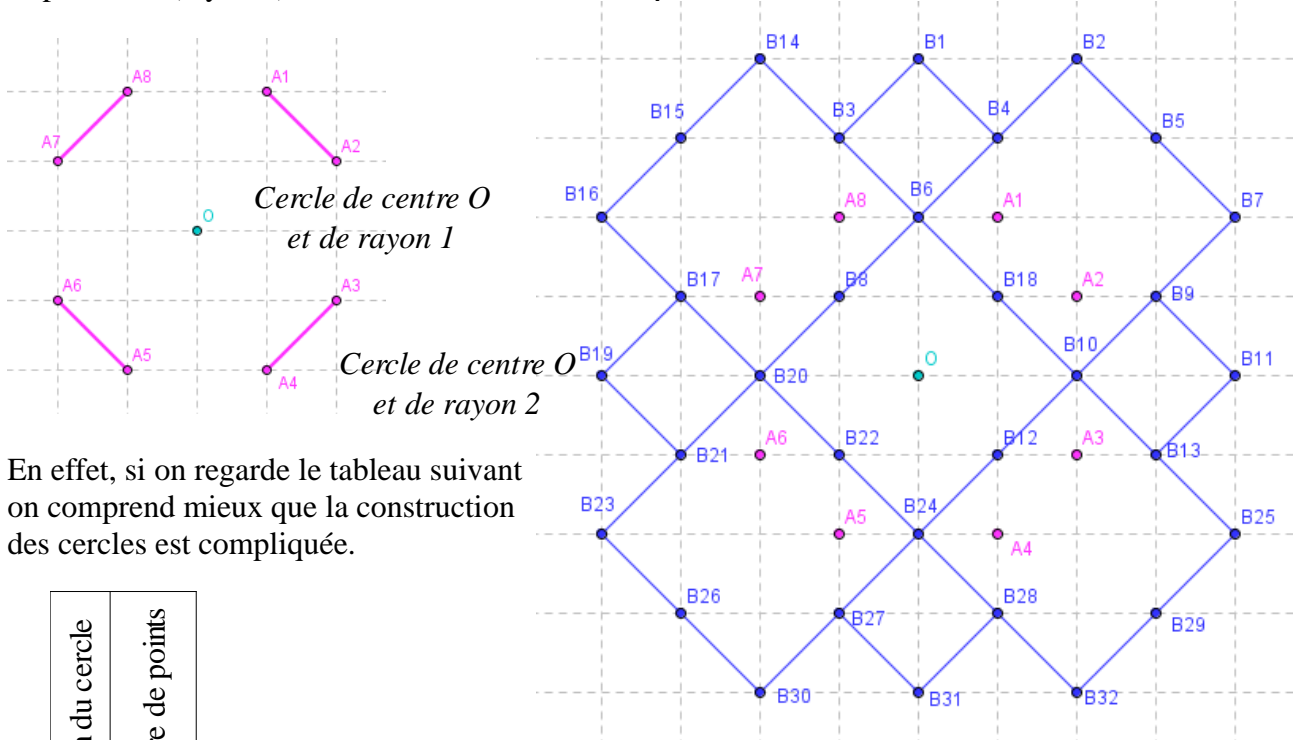
Étant donnés deux points A et B de coordonnées entières de son espace de vie, on définit la distance\_grenouille par  $D_g(A,B)$  = nombre minimal de sauts pour aller de A à B.

Comment est la géométrie des grenouilles ? Cercles, triangles, médiatrices...



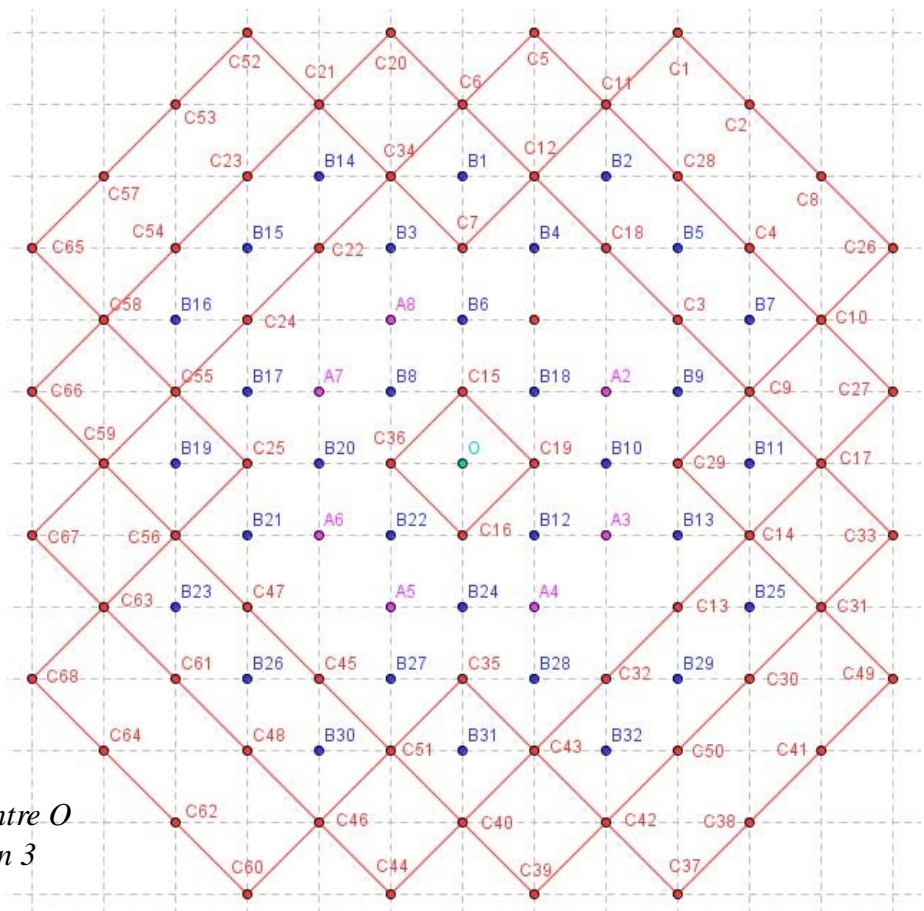
## Étude des cercles

Nous avons commencé nos recherches en regardant comment sont les cercles de différents rayons. (2)  
Rapidement (rayon 3), nous sommes arrivés à des problèmes de construction.



En effet, si on regarde le tableau suivant on comprend mieux que la construction des cercles est compliquée.

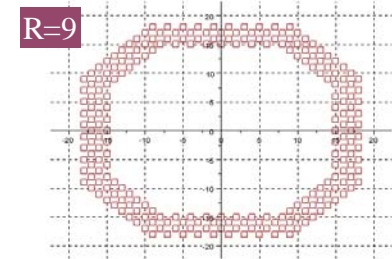
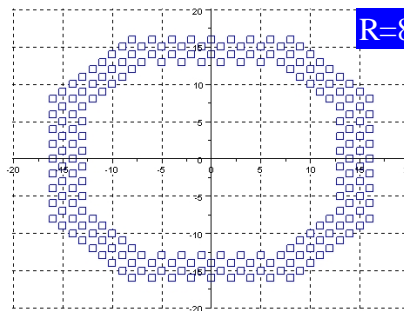
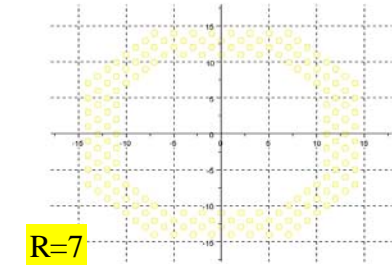
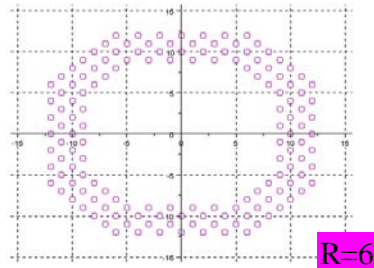
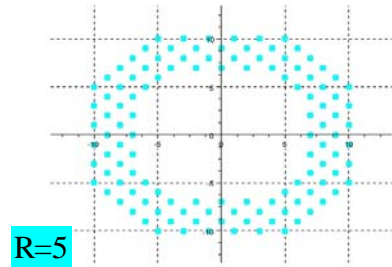
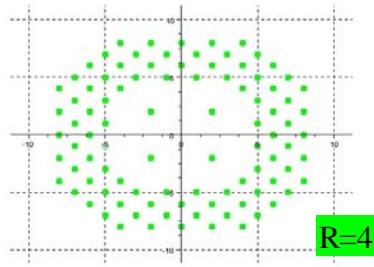
Rayon du cercle	Nombre de points
1	8
2	32
3	68
4	96
5	120
6	148
7	176
8	204
9	232
10	260
11	288
12	316
13	344



Avec l'aide du logiciel Scilab, nous avons pu construire différents cercles et savoir pour chacun leur nombre de points.

Nous avons remarqué une certaine logique dans la progression du nombre de points d'un cercle en fonction du rayon et nous avons même établi une formule :

Rayon du cercle	Nombre de points	Écart 1
1	8	
2	32	24
3	68	36
4	96	28
5	120	24
6	148	28
7	176	28
8	204	28
9	232	28
10	260	28
11	288	28
12	316	28
13	344	28




Si on note  $u_n$  le nombre de points du cercle de rayon  $n$ , nous avons :

$u_5=120$  et  $u_{n+1}=u_n+28$  autrement dit  $u_n$  est arithmétique à partir de  $n=5$ , ce qui donne

$u_n=120+28(n-5)$  pour  $n \geq 5$ .

Remarque : lors de nos recherches, nous avons mal programmé Scilab et nous avons une suite bien plus compliquée que nous étions quand même arrivés à formuler.



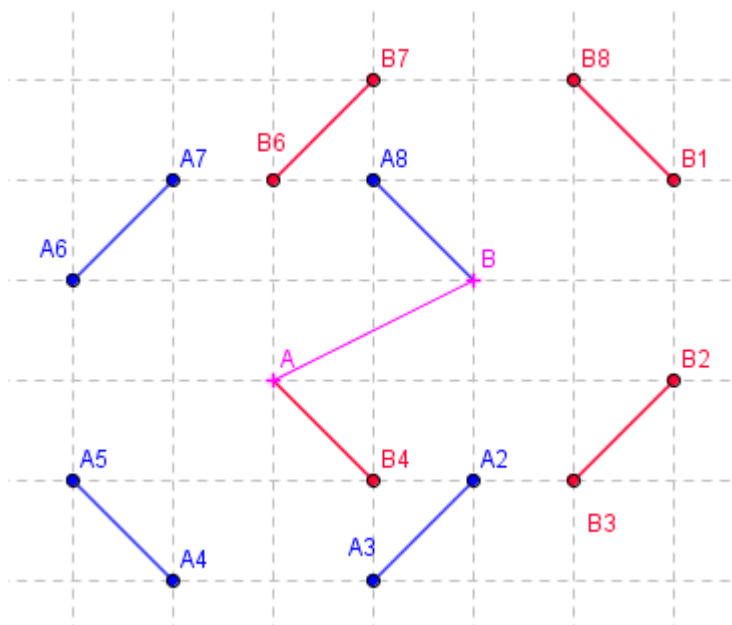
## Les triangles équilatéraux

Lors de nos travaux, une remarque due à Adrien nous est apparue : « *On ne peut pas faire un chemin fermé avec un nombre impair de déplacements* ».

Par exemple, vous ne pouvez pas faire de chemin fermé de longueur 3 (avec la distance de la grenouille).

Démonstration géométrique :

Soient A et B deux points à une distance 1. On remarque que les cercles de centres A et B et de rayon 1 ne se coupent pas en un autre point que A et B.



(3)

Le dessin ci dessus est un cas particulier pour la position de B, mais ça marche pour les 8 positions possibles de B sur le cercle de centre A et de rayon 1.

Démonstration algébrique :

On prend A comme origine du repère. Le cercle de centre A est de rayon 1 sera noté

$$\Gamma = \{1+2i, 2+i, 2-i, 1-2i, -1-2i, -2-i, -2+i, -1+2i\}$$

(4)

On prend B(b) et C(c) sur  $\Gamma$  et on suppose que la distance BC vaut 1. Autrement dit notre triangle ABC est équilatéral de côté 1, mais on va montrer que nous ne pouvons pas avoir B et C sur le cercle. Vu que la distance BC vaut 1, nous avons  $c=b+a$  où a est une valeur de  $\Gamma$

On remarque que pour les valeurs de  $\Gamma$ , si la partie réelle est paire, la partie imaginaire est impaire et inversement.

Supposons que pour c, ce soit sa partie réelle qui est paire (2 ou -2) et donc sa partie imaginaire impaire (1 ou -1)

La relation  $c=b+a$  va donner en partie réelle :  $\pm 2 = \text{Re}(b) + \text{Re}(a)$ , pas le choix les deux parties réelles de b et a sont égales à  $\pm 1$ . Autrement dit elles sont impaires et donc d'après la remarque les parties imaginaires de a et b seront paires ( $\pm 2$ ) et leur somme ne pourra pas faire  $\pm 1$ .

Lors d'une rencontre avec notre chercheur, ce dernier nous a mis sur une piste pour la démonstration dans le cas général.

Nous avons huit déplacements possibles :  $\{1+2i, 2+i, 2-i, 1-2i, -1-2i, -2-i, -2+i, -1+2i\}$

Nous pouvons les regrouper en deux types :

$$\Gamma_1 = \{2+i, 2-i, -2+i, -2-i\} \text{ de la forme } \text{pair} + \text{impair} \times i$$

$\Gamma_2 = \{1+2i, 1-2i, -1-2i, -1+2i\}$  de la forme *impair*+*pair* $\times i$   
Soit N le nombre de déplacements pour faire notre chemin fermé.

**On veut démontrer que N est pair.**

On décompose N en a+b où a est le nombre de déplacements du type  $\Gamma_1$  et b le nombre de déplacements du type  $\Gamma_2$ .

Si a pair et b pair alors N=a+b est pair

Si a impair et b impair alors N=a+b est pair

Si a impair et b pair alors N=a+b est impair mais ceci est impossible, en effet :

En abscisse nous obtenons a $\times$ *pair*+b $\times$ *impair* et cela donne un nombre pair

En ordonnée nous obtenons a $\times$ *impair*+b $\times$ *pair* et cela donne un nombre impair, or si on veut revenir au point de départ nous ne pouvons pas avoir un déplacement horizontal ou vertical impair.

Si a pair et b impair alors N=a+b est impair mais ceci est impossible, en effet :

En abscisse nous obtenons a $\times$ *pair*+b $\times$ *impair* est cela donne un nombre impair, or si on veut revenir au point de départ nous ne pouvons pas avoir un déplacement horizontal ou vertical impair.

Donc N=a+b ne pourra pas être impair, autrement dit il est pair.

## La géométrie de la grenouille (les segments)

Nous avons remarqué que les cercles pouvaient être tangents EN DEUX POINTS ou ne pas avoir de points communs.

Nous savons aussi, en géométrie euclidienne, que  $B \in [AC]$  équivaut à  $d(A,C) = d(A,B) + d(B,C)$ . Autrement dit le segment  $[AC]$  est l'ensemble des points  $B$  qui vérifient l'égalité dans l'inégalité triangulaire.

Si on passe en géométrie de la grenouille, que deviennent les segments  $[AC]$  ?

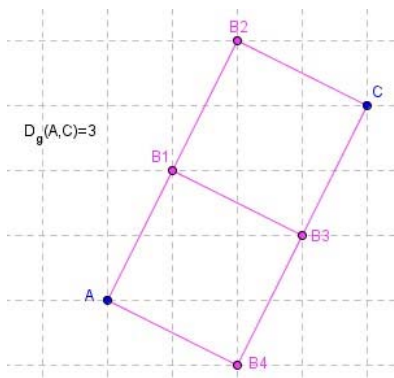
Première étape, mesurer la longueur  $AC$  :



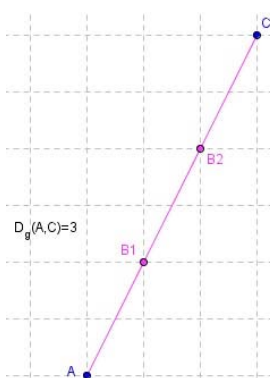
Nos dernières recherches ont porté sur avoir un encadrement de la distance  $AC$ , mais nous n'avons pas encore rédigé de texte.

Deuxième étape : trouver tous les points qui vont former le segment  $[AC]$

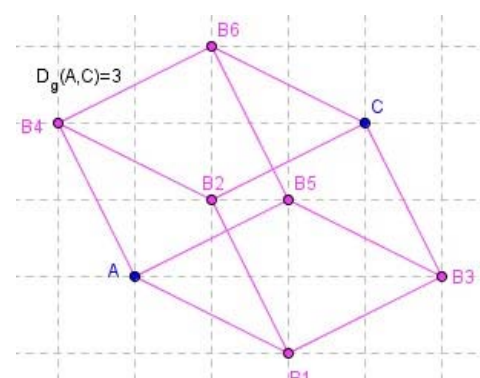
Regardons quelques cas « simples » où  $D_g(A, C) = 3$ . Nous avons alors, suivant la position de  $A$  et  $C$ , déterminé l'ensemble des points  $B$  tels que  $D_g(A, C) = D_g(A, B) + D_g(B, C)$ , c'est-à-dire les segments  $[AC]$ .



Deux mouvements identiques



Trois mouvements identiques



Aucun mouvement identique

## ANNEXE : Programmes en scilab :

I=[0] // cercle de rayon 0, un point. C'est le premier cercle

J=[1+2\*%i 2+%i 1-2\*%i 2-%i -1+2\*%i -1-2\*%i -2+%i -2-%i] // cercle de rayon 2. C(2)

C=list(I,J) // C va être la liste des cercles, C(n) sera le n-ième cercle de rayon n-1

function n=nbpt(I,k) // compte le nombre de points du cercle k de la liste I

n=length(I(k))

endfunction

function r=cherchept(I,k,K) // cherche K dans la liste I jusqu'au cercle k

r=0; // si r=0 alors pas K sinon nb de fois où K

for i=1:k

for j=1:nbpt(I,i)

if I(i)(j)==K then

r=r+1;

end

end

end

endfunction

function r=comparept(I,A) // recherche le point A dans le cercle I

r=0; // 0 si le terme n'est pas présent

for i=1:length(I)

if I(i)==A then

r=1;

end

end

endfunction

function K=enleve(I) // enlève les doublons du cercle I

n=1;K(1)=I(1)

for i=2:length(I)

if comparept(K,I(i))==0 then

n=n+1;

K(n)=I(i);

end

end

endfunction

function K=cerclen(I,k) // fait le cercle k mais il faut avoir le cercle k-1

n=1;

for i=1:nbpt(I,k-1)

for j=1:8

L(n)=I(k-1)(i)+I(2)(j);

if cherchept(I,k-1,L(n))==0 then

n=n+1;

end

end

end

K=enleve(L)

endfunction



```

function J=touscercle(I,k) // liste de tous les cercles jusqu'à k
  J=list([I(1)],[I(2)]);
  for i=3:k
    J(i)=cerclen(J,i)
  end
endfunction

```

```

J=["k*" "ko" "bo" "ro" "go" "co" "mo" "yo" "bs" "rs" "gs" "cs" "ms" "ys"] // code des couleurs

```

```

function descercle(I,k) // dessine le cercle k en couleur J(k)
  zoom_rect ([-k*sqrt(5),-k*sqrt(5),k*sqrt(5),k*sqrt(5)])
  xgrid // fait un quadrillage
  a=gca(); a.x_location = "middle"; a.y_location = "middle" // centre les axes
  for i=1:nbpt(I,k)
    plot (real(I(k)(i)),imag(I(k)(i)),J(k))
  end
endfunction

```

#### Notes de l'édition

- (1) Sur l'espace de vie de la grenouille, cela revient à faire des bonds de deux cases dans une direction et d'une case dans une direction perpendiculaire.
- (2) Rappelons qu'un cercle de centre O et de rayon r est l'ensemble des points qui sont à distance r de O.
- (3) Les  $A_i$  sont les points du cercle de centre A, les  $B_j$  ceux du cercle de centre B.
- (4)  $i$  est ici le nombre imaginaire dont le carré vaut -1. Il correspond au point de coordonnées (0,1). Ainsi le nombre  $1+2i$  correspond au point de coordonnées (1,2).